

3年	名	
	組	前



◆小数を使った表し方

しょうすう あらわ かた しら
 小 数の表し方について調べましょう。

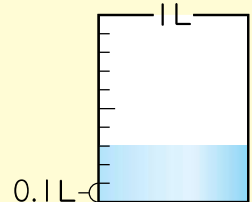
① 1Lを10等分した1こ分の大きさを Lと書き、
 れい点ーリットルとよみます。

② 0.1Lは、分数で表すと Lです。

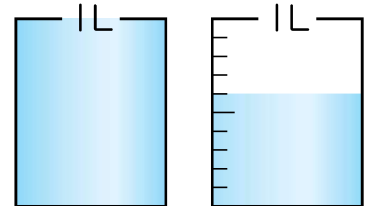
③ 右の水のかさは、0.1Lの3こ分なので Lです。

④ 0.1 や 0.3, 2.3 のような数を といいます。

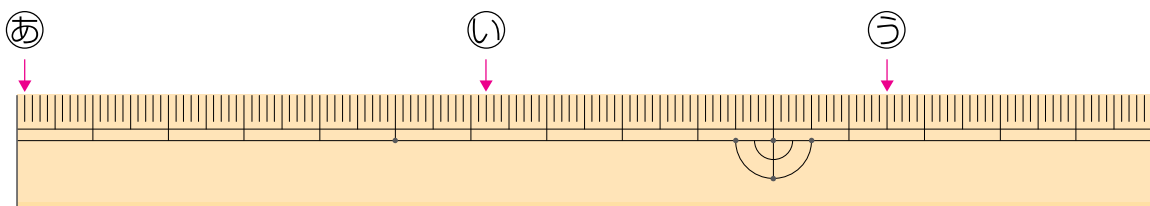
0, 1, 2, 3 や 10, 256 のような数を といいます。



⑤ 右の水のかさは、1Lを こと、0.1Lを こ
 あわせたかさなので、 Lです。



⑥ 下のものさしの左はしから、㉠, ㉡, ㉢ のめもりまでの長さは、それぞれ
 何cm何mmでしょうか。また、何cmでしょうか。



㉠ 1mm cm

㉡ cm mm 6.2cm

㉢ cm mm cm



1mmは、1cmを
 10等分した1こ分の
 長さだから…。