



◆小数を使った表し方

しょうすう あらわ かた しら
 小 数の表し方について調べましょう。

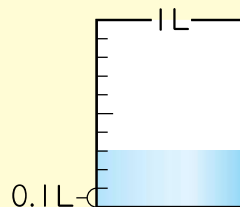
① 1Lを10等分した1こ分の大きさを **0.1** Lと書き、
 れい点ーリットルとよみます。

② 0.1Lは、分数で表すと $\frac{1}{10}$ Lです。

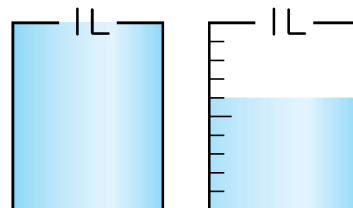
③ 右の水のかさは、0.1Lの3こ分なので **0.3** Lです。

④ 0.1 や 0.3, 2.3 のような数を **小数** といいます。

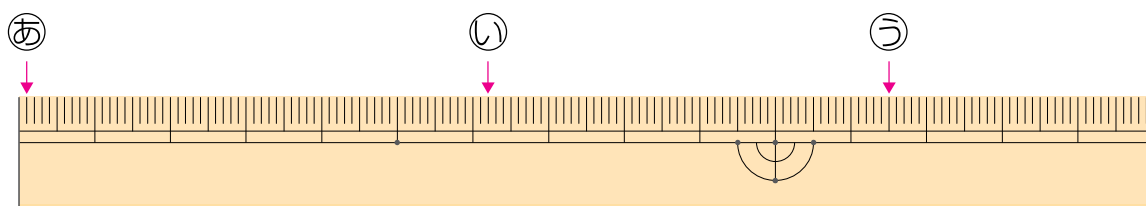
0, 1, 2, 3 や 10, 256 のような数を **整数** といいます。



⑤ 右の水のかさは、1Lを **1** こと、0.1Lを **6** こ
 あわせたかさなので、**1.6** Lです。



⑥ 下のものさしの左はしから、㊱, ㊲, ㊳ のめもりまでの長さは、それぞれ
 何cm何mmでしょうか。また、何cmでしょうか。



㊱ 1mm **0.1** cm

㊲ **6** cm **2** mm 6.2cm

㊳ **11** cm **5** mm **11.5** cm



1mmは、1cmを
 10等分した1こ分の
 長さだから…。