

# はこの形

(教科書 65 ~ 67 ページ)

2年

名前  
組

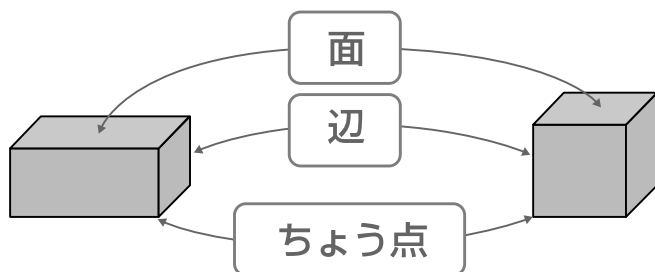


にあてはまることばや数を書きましょう。

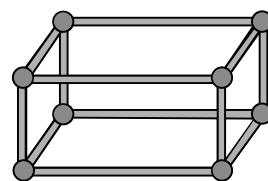
① はこの形のたいらなところを、 といいます。

② 面と面の間の直線を、 といいます。

③ 3つの辺があつまったところを、 といいます。



ひごとねん土玉とだまをつかって、  
はこの形かたちを作つくったことを  
思い出おもしてみよう。

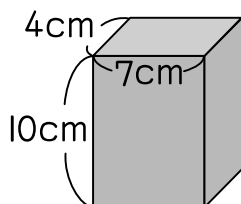


④ はこの形の面かたちの数は  6 , 辺めんの数は  12 , ちょう点かすの数は  8 です。



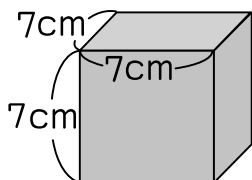
したかたちのこの形を、くわしくしらべましょう。

①



- ・ たて 4cm, よこ 7cm の長方形ちようほうけいの面めんの数かず  2
- ・ たて 10cm, よこ 7cm の長方形ちようほうけいの面めんの数かず  2
- ・ たて 10cm, よこ 4cm の長方形ちようほうけいの面めんの数かず  2
- ・ ながながさが 7cm の辺へんの数かず  4

②



- ・ 1 辺へんが 7cm の正方形せいほうけいの面めんの数かず  6
- ・ ちょう点てんの数かず  8