


3つの箱があります。中にお金が入っている箱が1つあります。

それぞれの箱に注意書きが書いてあるが、本当の事を書いているのは1つだけ。


さて、お金が入っている箱はA B Cのどれでしょうか。

A



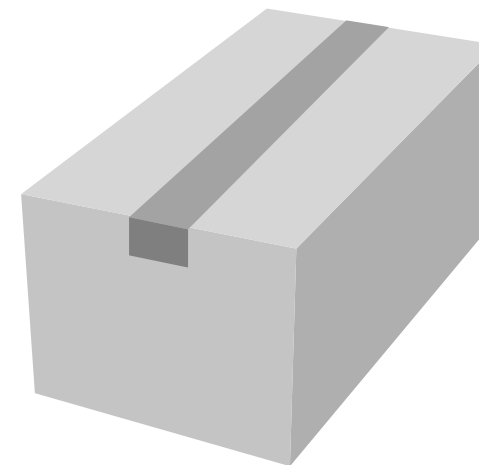
この箱の中に
お金が入っています

B



この箱の中には
お金が入ってません

C



Aの箱の中に
お金は入ってません